

ملكه الدراسات

تغطية شاملة لجميع اجزاء

المنهج .

ما النتائج.

ما العلاقة.

اكتب المفهوم العلمي.

بم تفسر.

اكمل....

(والجديد)

اسئلة الصور.



إعداد/أغادة النوبي.

الشهادة الاعداديه

اولا الجغرافيا

تجميعه من اهم اسئله الامتحانات

سلسله المراجعه النهائيه للشهادة الاعداديه

أولاً : الجغرافيا

- ١- موقع المكان سواء دولة أو قارة أو غيرها بالنسبة للأماكن الأخرى من بحار ومحيطات ودول مجاورة (الموقع الجغرافي)
- ٢- اكبر بحر مغلق في العالم ويقع في اسيا (بحر قزوين)
- ٣- هي الدول التي تتكون من جزيرة أو أكثر أو قد تكون جزء من جزيرة (الدول الجزرية)
- ٤- محيط يقع بين الأمريكتين من جهة وإفريقيا وأوروبا من الجهة الأخرى (المحيط الأطلنطي)
- ٥- محيط يقع شمال كل من اسيا وأوروبا وأمريكا الشمالية (المحيط القطبي الشمالي)
- ٦- خليج يقع في جنوب شرق أمريكا الشمالية (خليج المكسيك)
- ٧- قارة تبدو أقرب لشكل المثلث (أمريكا الجنوبية)
- ٨- قارة تتكون من مجموعة من الجزر (أستراليا)
- ٩- بحر يفصل بين أستراليا وجزر إندونيسيا (بحر أرافورا)
- ١٠- قارة متجمدة وغير مأهولة بالسكان في أقصى جنوب الكرة الأرضية (أنتاركتيكا أو القطبية الجنوبية)
- ١١- محيط يحيط بقارة أنتاركتيكا من جميع الجهات (المحيط القطبي الجنوبي)
- ١٢- قارة تظهر فيها السلاسل الجبلية الضخمة (آسيا)
- ١٣- أعلى جبال في العالم (جبال الهيمالايا)
- ١٤- أعلى قمة جبلية في العالم (قمة إفرست)
- ١٥- أعلى هضاب العالم وتعرف بسقف العالم (هضبة التبت)
- ١٦- هضبة توجد في وسط الهند (هضبة الدكن)
- ١٧- سهول تمتد على طول سواحل البحار والمحيطات التي تحيط بالقارات (السهول الساحلية)
- ١٨- سهول فيضية تجري فيها أنهار أوب وينسي ولينا (سهول سيبيريا)
- ١٩- سهول يجري فيها نهر اليانجتسي (سهول شرق الصين)
- ٢٠- نهر يصب في المحيط الهندي (نهر السند)
- ٢١- قارة يسود فيها المظهر الهضبي (أفريقيا)
- ٢٢- هضبة محصورة بين جبال أطلس (هضبة الشطوط)
- ٢٣- جبال تقع في شمال غرب أفريقيا (جبال أطلس)
- ٢٤- جبال تقع شرق أفريقيا (جبال كينيا وكلمنجارو)
- ٢٥- جبال في أقصى الجنوب الشرقي من أفريقيا (دراكنزبرج)
- ٢٦- هضاب تعتبر منابع روافد نهر النيل (هضبة البحيرات الاستوائية وهضبة الحبشة)
- ٢٧- هضبة يجري بها نهرا الاورانج واللمبوبو (هضبة جنوب أفريقيا)
- ٢٨- سهل صحراوي يوجد في دولة ليبيا (سهل كلنشو)
- ٢٩- سهول صحراوية في جنوب قارة أفريقيا (صحراء كلهاري)
- ٣٠- سلاسل جبلية تمتد في وسط قارة أوروبا (سلاسل جبال الألب)

٣١- هضبة تشغل معظم دولة اسبانيا (هضبة الميزيتا)

٣٢- سهل فيضي يمتد من المحيط الأطلنطي حتى جبال الأورال في أوروبا وتوجد به المدن الأوروبية الرئيسية (السهل الأوروبي العظيم)

٣٣- أطول نهر في أوروبا (نهر الفولجا) ٣٤- أعلى سلسلة جبال في أمريكا الشمالية (جبال روكي)

٣٥- سهول في جنوب أمريكا الشمالية حيث الأراضي الزراعية (سهول نهر المسيسيبي)

٣٦- سلاسل جبلية مرتفعة في غرب أمريكا الجنوبية (جبال الإنديز)

٣٧- أكبر الهضاب وأكثرها ارتفاعاً في أمريكا الجنوبية (هضبة البرازيل)

٣٨- أصغر هضاب أمريكا الجنوبية (هضبة بتاجونيا)

٣٩- أوسع سهول فيضية في العالم (سهول حوض نهر الأمازون)

٤٠- جبال تقع شرق استراليا وتعرف بجبال الألب الأسترالية و لها شكل قوس (جبال الحاجز الكبير)

٤١- قارتين يتشابهها في التضاريس (أفريقيا وأستراليا)

٤٢- هضبة تشغل نصف مساحة استراليا (الهضبة الغربية)

٤٣- خليج يصب فيه نهرا مري ودارلنج (الخليج الاسترالي الكبير)

٤٤- منطقة محددة على سطح الأرض لها خصائصها المناخية من حيث الحرارة والرياح والمطر (الإقليم المناخي)

٤٥- إقليم مناخي يتميز بارتفاع الحرارة وسقوط الأمطار طوال العام (الإقليم الاستوائي وشبه الاستوائي)

٤٦- حشائش تتميز بالتدرج بالطول من الجنوب للشمال وتعتبر حديقة حيوان طبيعية (حشائش السافانا)

٤٧- إقليمان مناخيان يتشابهان في صيف غزير الأمطار وشتاء جاف (الإقليم المداري والإقليم الموسمي)

٤٨- إقليم يمتد على سواحل المغرب العربي والشام (إقليم مناخ البحر المتوسط)

٤٩- عواصف مدارية تهب على الإقليم الصيني (التيفون)

٥٠- غابات تنفض أوراقها شتاءً من شدة البرودة (الغابات النفضية)

٥١- غابات توجد في الإقليم اللورانسى ومن أشجارها الصنوبر والشربين (الغابات المخروطية)

٥٢- إقليم مناخي يسود في المناطق القطبية المتجمدة مثل أنتاركتيكا (إقليم التندرا)

٥٣- إقليم مناخي يشغل القمم والمنحدرات العليا للمناطق الجبلية في العالم (إقليم مناخ الجبلي)

٥٤- مجموعة بشرية تتشابه في صفاتها الجسمية الخارجية (السلالة)

٥٥- فترة تاريخية انتشر فيها الإنسان في قارات العالم المختلفة (أواخر عصر البلايستوسين)

٥٦- سلالة بشرية تبلغ حوالي ١٠٪ من سكان العالم (السلالة الزنجية)

٥٧- قارة يتركز فيها ٧٥٪ من زواج العالم (أفريقيا)

٥٨- قارة أصبح الزنوج يمثلوا نسبة كبيرة من سكانها وحصلوا على جنسيات دولها (أوروبا)

٥٩- سلالة بشرية تزيد عن ٤٠٪ من سكان العالم (السلالة المغولية)

٦٠- قارة تتركز فيها السلالة المغولية خاصة في الشرق (آسيا)

٦١- قسم من السلالة المغولية يعيشون في شمال كندا والاسكا (الإسكيمو)

٦٢- هم السكان الأصليون للأمريكيتين (الهنود الحمر)

٦٣- قسم من السلالة المغولية يعيشوا في سيبيريا (جماعة التنجوس)

٦٤- السلالة التي تحتوي على حوالي نصف سكان العالم (السلالة القوقازية)

٦٥- سلالة ينتمي لها سكان حوض البحر المتوسط من العرب وأوروبا (السلالة القوقازية)

٦٦- هم سكان غرب ووسط أوروبا وينتموا للسلالة القوقازية (المجموعة الألبية)

٦٧- هم سكان دول شمال أوروبا وينتموا للسلالة القوقازية (المجموعة النوردية الشمالية)

٦٨- إجراء دوري يتم فيه إحصاء السكان كل خمس أو عشر سنوات (التعداد السكاني)

٦٩- أكبر قارات العالم سكاناً ويسكنها ٦٠٪ من سكان العالم (آسيا) - ٧٠- قارة خالية من السكان (أنтарكتيكا)

٧١- منطقة ذات تربة جيدة وهي أكثر منطقة في العالم إزدحاماً بالسكان (جزيرة جاوة)

٧٢- الهجرة التي تتم من خلال وسائل غير قانونية (الهجرات غير الشرعية)

٧٣- أكبر دولة سكانية في قارة أمريكا الشمالية (الولايات المتحدة الأمريكية)

٧٤- هضبة يقل فيها السكان في جنوب أمريكا الجنوبية (هضبة بتاجونيا)

٧٥- أكبر دولة سكاناً في قارة أمريكا الجنوبية (البرازيل)

٧٦- دولة تمثل ٦٠٪ من سكان قارة استراليا (دولة استراليا)

٧٧- علم دراسة السكان ونمو وتوزيع وتركيب السكان (الديموجرافيا)

٧٨- هي القارة الأعلى في معدل المواليد (أفريقيا)

٧٩- هي القارة الأقل في معدل المواليد و الأعلى في معدل الوفيات (أوروبا)

٨٠- هي القارة الأقل في معدل الوفيات (أمريكا الجنوبية) - ٨١- قارة معدل الزيادة الطبيعية فيها صفر (أوروبا)

٨٢- هو نتاج الفرق بين معدلات المواليد والوفيات (معدل الزيادة الطبيعية)

٨٣- هو دراسة عدد ونسبة كل مجموعة من سكان المنطقة وفقاً لفئات عمرية محددة (التركيب العمري)

٨٤- القارة الأعلى في دخل الفرد (استراليا) - ٨٥- القارة الأقل في دخل الفرد (أفريقيا)

٨٦- عدد الأفراد في سن العمل والقادرين على العمل والذين يعملون فعلياً أو يبحثون عن عمل (قوة العمل)

السؤال الثاني : اكمل

أولاً : الجغرافيا

- ١- تعتبر آسيا وأوروبا وأفريقيا قارات العالم القديم
- ٢- تعتبر أمريكا الشمالية والجنوبية وأستراليا وAntarctica قارات العالم الجديد
- ٣- أكبر قارات العالم هي آسيا وأكبر المحيطات هو المحيط الهادي
- ٤- تخترق دائرة الاستواء قارة آسيا في جهة الجنوب
- ٥- تفصل جبال الأورال آسيا عن أوروبا
- ٦- يفصل قارة آسيا عن أفريقيا شبه جزيرة سيناء والبحر الأحمر ومضيق باب المندب
- ٧- يفصل البحر المتوسط قارة أفريقيا عن قارة أوروبا
- ٨- يحد قارة أفريقيا من الشرق البحر الأحمر والمحيط الهندي ، ومن الغرب المحيط الأطلنطي
- ٩- تمر في قارة أمريكا الشمالية دائرتين عرض رئيسيتين هما الدائرة القطبية الشمالية ومدار السرطان
- ١٠- تقترب قارة أمريكا الشمالية من قارة آسيا عند مضيق بيرنج
- ١١- يحد أستراليا من الغرب والجنوب المحيط الهندي
- ١٢- تقع جبال زاجروس في العراق وإيران
- ١٣- جبال اليابان هي الجبال التي في شرق آسيا
- ١٤- من السهول الساحلية في آسيا سهول بحر قزوين ١٥- تجري أنهار اوب وينسي ولينا في سهول سيبيريا
- ١٦- من السهول التي في شرق آسيا سهول شرق الصين وسهول منشوريا
- ١٧- يصب نهر الكونغو في المحيط الأطلنطي
- ١٨- يصب نهر النيجر في خليج غينيا

١٩- يعتبر نهر النيل أطول أنهار العالم ويصب في البحر المتوسط

٢٠- يصب نهر نلسن في خليج هدسن ٢١- يصب نهر سانت لورانس في خليج سانت لورانس

٢٢- تتركز الهضاب في قارة أمريكا الجنوبية في جهة الشرق

٢٣- أنهار بارانا وباراجواي ولاپلاتا والأمزون والأورينكو جميعهم يصبوا في المحيط الأطلنطي

٢٤- يصب نهر مري ودارلنج في الخليج الاسترالي الكبير

٢٥- توجد السهول الصحراوية بأستراليا في الداخل والغرب

٢٦- العوامل المؤثرة في مناخ العالم هي الموقع الفلكي و الموقع الجغرافي و التضاريس

٢٧- تكثر الزواحف والطيور والحيوانات المتسلقة في إقليم مناخ الاستوائي

٢٨- تنتمي الهند وجزيرة مدغشقر وهضبة اثيوبيا لإقليم مناخ الموسمي

٢٩- تعرف حشائش الاستبس في أمريكا الشمالية بحشائش البراري

٣٠- تزيد الأمطار في إقليم مناخ غرب أوروبا في فصلي الشتاء و الخريف

٣١- من أهم أشجار الغابات النفضية هي أشجار الزان ٣٢- تنمو الطحالب في إقليم مناخ التندرا

٣٣- تنقسم السلالات البشرية إلى السلالة القوقازية و المغولية و الزنجية

٣٤- تتميز السلالة الزنجية بالبشرة الداكنة والأنف العريض والشعر المجعد والشفاه الغليظة

٣٥- تتركز السلالة الزنجية في قارة أفريقيا خاصة قرب دائرة الاستواء بجانب بعض الأماكن الأخرى من العالم

مثل استراليا و جنوب شرق الهند

٣٦- من أقسام السلالة الزنجية الأقزام و البانتو و البوشمن و الهنوتوت و الزنج السودانيون و النيليون الحاميون

٣٧- تتميز السلالة المغولية بالبشرة الصفراء والعيون المنحرفة والشعر المسترسل

٣٨- من أقسام السلالة المغولية الاسكيمو و الهنود الحمر و جماعة التنجوس

٣٩- تتميز السلالة القوقازية بالبشرة البيضاء الوردية والشعر المتموج والشفاه الرفيعة

٤٠- تنتشر السلالة القوقازية في كل قارات العالم ومنها شمال الصحراء الكبرى من قارة أفريقيا

٤١- تم تقسيم السلالات البشرية على أسس ظاهريّة

٤٢- يتركز السكان بآسيا في السهول الفيضية حيث تجري الأنهار مثل نهر اليانجتسي في الصين و الجانج في الهند

٤٣- من المناطق الصحراوية قليلة السكان في آسيا شبه الجزيرة العربية

٤٤- يوجد في آسيا أكبر دولتين في العالم من حيث السكان وهما الصين و الهند

٤٥- من مناطق تركيز السكان في أفريقيا السهول الفيضية الخصبة مثل سهول وادي النيل في مصر والسودان

٤٦- من السهول الساحلية التي يتركز فيها السكان في أفريقيا سواحل البحر المتوسط و سواحل جنوب أفريقيا

٤٧- يقل السكان في المناطق الصحراوية في أفريقيا مثل الصحراء الكبرى وصحراء كلهاري

٤٨- يتركز سكان أوروبا بدول غرب ووسط أوروبا وبالمدن الصناعية الضخمة مثل لندن وباريس

٤٩- من مناطق تركيز السكان في أوروبا السهول الزراعية الخصبة مثل السهل الأوروبي العظيم

٥٠- يتركز سكان كندا في المدن الكبرى مثل مونتريال ويتركز سكان المكسيك في العاصمة مكسيكو سيتي

٥١- يقل سكان أمريكا الشمالية في دول البرزخ مثل هندوراس وكوستاريكا

٥٢- سهول لابلاتا تعرف في الأرجنتين بسهول البمباس

٥٣- تقل في الدول المتقدمة معدلات المواليد والوفيات وبالتالي تقل معدلات الزيادة الطبيعية

٥٤- معدل الزيادة الطبيعية في مصر مرتفع ٥٥- السكان في فنة صغار السن غير منتجين

٥٦- السكان في الفنة المتوسطة "البالغون" أعلى نسب لهم دول غرب أوروبا وأقل نسب في أفريقيا

٥٧- من مناطق الدول المتقدمة في نسبة المتعلمين أمريكا الشمالية وأوروبا وأستراليا واليابان وروسيا

٥٨- معظم دول أوروبا وروسيا وأمريكا الشمالية دول ذات رعاية طبية فانقة

٥٩- تعتبر مصر من الدول ذات الرعاية الطبية المرتفعة ٦٠- معظم دول أفريقيا دول ذات رعاية طبية منخفضة

٦١- الدول الصناعية مثل غرب أوروبا وأمريكا الشمالية دول ذات دخل اقتصادي مرتفع

٦٢- تعتمد الدول ذات الدخل فوق المتوسط على الأنشطة التقليدية والتصنيع النامي مثل تركيا وجنوب أفريقيا

٦٣- تعتبر مصر و الصين من الدول ذات المستوى الاقتصادي الأقل من المتوسط

٦٤- الدول المعتمدة على الزراعة ذات مستوى اقتصادي منخفض مثل معظم دول أفريقيا

٦٥- تزيد نسبة قوة العمل في مجال الزراعة في الدول النامية في أفريقيا مثل اثيوبيا وآسيا مثل الهند

٦٦- تقل نسبة قوة العمل في مجال الزراعة في الدول المتقدمة

٦٧- تزيد نسبة العاملين في الصناعة والخدمات المرتبطة بها في الدول المتقدمة عكس الدول الفقيرة يعمل

سكانها في الزراعة والصيد والرعي

السؤال الرابع : بم تفسر

أولاً : الجغرافيا

- ١- تعتبر آسيا شبه جزيرة ؟
- لأنها محاطة بالمياه من ثلاث جهات ، المحيط القطبي الشمالي من الشمال ، المحيط الهادي من الشرق ، المحيط الهندي من الجنوب
- ٢- وجود مراكز بحثية مقسمة لعدة دول في قارة أنتاركتيكا ؟
- لأن لهذه الدول مصالح بها مثل الولايات المتحدة وروسيا وانجلترا وفرنسا
- ٣- تعرف هضبة التبت بسقف العالم ؟ * لارتفاعها عن قمم الجبال
- ٤- قلة أهمية أنهار اوب وينسي ولينا ؟ * لأنها تتجمد في الشتاء
- ٥- تتميز السهول الساحلية في قارة أفريقيا بالضيق عموماً ؟ * لاقتراب حافات الجبال والهضاب من السواحل

- ٦- أهمية سهول أنهار النيل والكونغو والنيجر ؟ * لأنها تتميز جميعها بجودة التربة وصلاحيتها للزراعة
- ٧- تتعدد مسميات سلاسل جبال الألب في أوروبا ؟
- * تعرف بجبال البرانس في اسبانيا وجبال الألب الدينارية في شبه جزيرة البلقان
- ٨- ضيق السهول الساحلية في غرب امريكا الجنوبية ؟ * لاقترب جبال الإنديز من سواحل المحيط الهادي
- ٩- تشبه تضاريس استراليا تضاريس أفريقيا ؟
- * حيث يسود المظهر الهضبي فيهما وتشغل الهضبة الغربية في استراليا نصف مساحتها
- ١٠- توجد كثير من المدن الهامة في سهول نهرا مري ودارلنج ؟ * لأنها سهول زراعية ذات تربة خصبة
- ١١- تضيق السهول الساحلية في شرق استراليا ؟ * لاقترب جبال الحاجز الكبير من المحيط الهادي
- ١٢- اختلاف المناخ داخل القارات من منطقة لأخرى ؟
- * بسبب الموقع الفلكي والموقع الجغرافي والتضاريس الخاصة بكل منطقة
- ١٣- يتميز اقليم مناخ الاستوائي بشدة الحرارة طوال العام ؟ * لوقوعه في نطاق دائرة الاستواء
- ١٤- تدرج حشائش السافانا في الطول ؟ * حسب كمية المطر
- ١٥- تعتبر حشائش السافانا حديقة حيوان طبيعية ؟ * حيث تعيش بها الحيوانات آكلة العشب وآكله اللحوم
- ١٦- أهمية حشائش الاستبس ؟ * تستغل كمراعي طبيعية
- ١٧- تسمية الغابات النفضية بهذا الاسم ؟ * لأنها تنفض أوراقها في فصل الشتاء بسبب شدة البرودة
- ١٨- تتنوع الحياة النباتية في إقليم مناخ الجبلي ؟ * طبقاً لارتفاع السطح وكمية المطر
- ١٩- تعرض عدد كبير من زنوج افريقيا للهجرات الإجبارية على يد الأوروبيين إلي الأمريكتين ؟
- * للعمل في مزارع القطن وقصب السكر والتبغ التي أنشأها الأوروبيون في الأمريكتين
- ٢٠- تزيد نسبة السلالة المغولية عن ٤٠٪ من سكان العالم ؟
- * لأن النسبة الأكبر من سكان الصين ودول شرق وجنوب شرق آسيا (أكثر دول العالم سكاناً) ينتمون للسلالة المغولية
- ٢١- في الوقت الحاضر لا يوجد في العالم سلالات نقية إلا في بعض المجتمعات البدائية ؟
- * بسبب انصهار السلالات واختلاط الصفات الطبيعية التي تميز كل سلالة عن الأخرى
- ٢٢- تم تقسيم السلالات البشرية على أسس ظاهرية وليست جوهريّة ؟
- * حيث لا توجد سلالة أكثر ذكاء من سلالة أخرى أو أكثر منها قدرة على العمل والإبداع
- ٢٣- تركز سكان العالم في مناطق السهول الفيضية ؟ * لوفرة المياه وخصوبة التربة
- ٢٤- تركز سكان العالم في مناطق السهول الساحلية ؟ * للمناخ المعتدل والنشاط السياحي

٢٥- تركز السكان في العالم في المدن الكبرى ؟ * لتوفر فرص العمل والخدمات والمناطق الصناعية

٢٦- يقل السكان في المناطق الشمالية في سيبيريا بقارة آسيا ؟ * بسبب برودة الجو

٢٧- يقل السكان في وسط قارة آسيا ؟

* لوجود مناطق جبلية وهضبية مثل الهيمالايا والتبت حيث وعورة السطح

٢٨- يتركز السكان بالمناطق مرتفعة السطح في الدول الإستوائية في افريقيا ؟

* حيث يعتدل المناخ بسبب ارتفاع السطح مثل كينيا وأوغندا

٢٩- قلة السكان في المناطق الاستوائية بأفريقيا ؟

* بسبب الغابات الكثيفة والبيئة الطبيعية القاسية وانتشار الأمراض

٣٠- يقل السكان بأفريقيا بالمناطق الجبلية مثل جبال البحر الأحمر ؟ * لوعورة السطح

٣١- يقل سكان دول شرق أوروبا نسبياً عن الغرب والوسط ؟

* لأنها أقل في درجة تقدمها عن غرب ووسط أوروبا

٣٢- قلة السكان في المناطق الشمالية بأوروبا ؟ * بسبب شدة البرودة مثل فنلندا والنرويج

٣٣- تركز السكان في شمال شرق الولايات المتحدة ؟

* بسبب وجود المدن الكبرى والموارد الاقتصادية الضخمة ومن أكبرها مدينة نيويورك

٣٤- تركز السكان في الولايات المتحدة في ولايات الوسط ؟ * حيث تتركز الزراعة في سهول نهر المسيسيبي

٣٥- قلة السكان في سهول الأمزون ؟ * بسبب انتشار الغابات الاستوائية

٣٦- قلة السكان على قمم جبال الإنديز ؟ * بسبب وعورة السطح وشدة الارتفاع والبرودة

٣٧- تركز السكان في استراليا على السواحل الشرقية ؟

* حيث المدن الكبرى مثل سيدني والمناطق الصناعية الكبرى

٣٨- تركز السكان في الجنوب الشرقي لأستراليا ؟

* لوجود سهول نهري مري ودارلنج والأراضي الزراعية الخصبة

٣٩- يقل سكان استراليا في الداخل والغرب ؟ * بسبب الظروف الصحراوية السائدة في تلك المناطق

٤٠- يقل سكان استراليا في الشمال ؟ * حيث مناطق حشائش السافانا والغابات الموسمية

٤١- ارتفاع معدلات المواليد في قارة أفريقيا ؟

* بسبب انتشار الأمية والفقر في معظم دولها * الاعتماد على الزراعة البدائية والرعي

* انتشار بعض العادات والتقاليد السلبية مثل الرغبة في إنجاب أكبر عدد من الأبناء، والزواج المبكر للإناث

مذكرة الأوانل

٣ إعدادي - ترم اول

٤٢ - ارتفاع نسبة معدل الوفيات في أوروبا رغم التقدم الصحي ؟ * يرجع ذلك إلى زيادة عدد كبار السن بها

٤٣ - انخفاض معدل الوفيات في مصر في الآونة الأخيرة ؟

* يرجع ذلك إلى الرعاية الصحية والإهتمام بصحة الاطفال

٤٤ - ارتفاع نسبة فئة كبار السن في الدول المتقدمة ؟

* بسبب التقدم في مجالات الخدمات الصحية والتعليمية

٤٥ - اختلاف الخصائص الاقتصادية لسكان العالم ؟

* وفقاً إلى تنوع الأنشطة التي يقوم بها السكان في كل دولة و دخل السكان

٤٦ - تعتبر دول الخليج العربي من الدول ذات الدخل الاقتصادي المرتفع ؟

* لأنها تعتمد على استخراج البترول وتصديره إلى الخارج وتصنيع مشتقاته

١- تتميز قارة آسيا بكثرة الجزر وأشباه الجزر ؟

* حيث تضم جزر كثيرة مثل اندونيسيا واليابان، وأشباه الجزر مثل شبه الجزيرة العربية وشبه جزيرة الملايو

٢- يسود المظهر الهضبي في افريقيا ؟

* حيث توجد الهضاب في مناطق واسعة من القارة الأفريقية مثل هضبة الصحراء الكبرى شمالا وهضبة البحيرات الاستوائية في الوسط وهضبة الحبشة في الشرق وهضبة جنوب افريقيا في الجنوب

٣- تكثر الهضاب شرق جبال الإنديز ؟

* مثل هضبة جيانا في الشمال وهضبة البرازيل في الشرق وهضبة بتاجونيا في الجنوب

٤- يتشابه مناخ الاقليم المداري الحار مع مناخ الاقليم الموسمي ؟

* حيث يتشابه مناخ الإقليمين في الصيف الحار الممطر والشتاء الجاف كما ينمو بهما حشائش السافانا

٥- تقسيم السلالات أمر ظاهري وليس جوهري ؟

* حيث يتم التقسيم على أسس ظاهرية حسب الشكل الخارجي وليس جوهريه فلا توجد سلالة أكثر ذكاء من سلالة أخرى أو أكثر منها قدرة على العمل والإبداع

٦- هناك قلة نادرة من السلالات النقية في العالم حالياً ؟

* مثل بعض الزوج قصار القامة في غابات حوض نهر الكونغو وصحراء كلهاري في افريقيا ،، الإسكيمو في صحاري التندرا شمال كندا ،، الهنود الحمر في غابات وجبال امريكا الجنوبية ،، الاستراليون الأصليون

٧- لا توجد دولة في العالم يتكون شعبها من سلالة واحدة ؟

* مثال على ذلك الولايات المتحدة يضم شعبها سلالات مختلفة مثل الزوج القادمين عن طريق الهجرات الإجبارية من افريقيا ، والسلالة القوقازية القادمون من أوروبا ، والسلالة المغولية وهم الهنود الحمر السكان الأصليين

* مثال آخر **العرب** ليسوا من سلالة واحدة فالأغلبية من السلالة **القوقازية** ولكن مع حدوث الفتوحات والهجرات على مر التاريخ حدث اختلاط مع السلالات الأخرى

٨- هناك عوامل تؤثر على اختلاف معدلات الوفيات في العالم ؟

* حيث يلعب مستوى السكن والتغذية والخدمات الصحية العامة دوراً مؤثراً في معدل الوفيات فالدول التي تراعي بها مستويات الوقاية الصحية وحماية البيئة من التلوث **تقل** بها معدلات الوفيات، بينما **تزداد** في الدول التي تقل فيها الرعاية الصحية وتنتشر بها الأمراض

* قد تؤدي الحروب والكوارث الطبيعية مثل الجفاف والزلازل إلى **زيادة** معدلات الوفيات

٩- ارتفاع نسبة المتعلمين في مصر في الفترات الأخيرة ؟

* نتيجة زيادة الاهتمام بالتعليم في مراحلها المختلفة وجهود الدولة في مجالات محو الأمية وتحقيق مبدأ تكافؤ الفرص

١٠- هناك عادات وتقاليد في بعض دول العالم تؤثر على معدل التعليم فيها خاصة الإناث ؟

* حيث بعض المناطق تحرم المرأة من التعليم بسبب المعتقدات الخاطئة ، كذلك تفضيل الزواج المبكر للإناث

١١- توجد علاقة بين النشاط الزراعي والصناعي و الدخل الاقتصادي للدول ؟

* الدول ذات الدخل الاقتصادي المرتفع تعتمد على النشاط الصناعي بينما الدول ذات الدخل الاقتصادي المنخفض يسودها النشاط الزراعي

١٢- هناك سمات مميزة للدول ذات الدخل الاقتصادي المرتفع ؟

* تركز معظم السكان في المدن في مستويات معيشية مرتفعة و يعتمدون على الصناعة والخدمات ويستهلكون كمية كبيرة من الطاقة

السؤال السادس : ما النتائج المترتبة على

أولاً : الجغرافيا

- ١- تميز سواحل أوروبا بالتعرج وكثرة الجزر ؟ * ساعد ذلك على إنشاء الموانئ الطبيعية
- ٢- وقوع القارة القطبية الجنوبية في أقصى جنوب الكرة الأرضية ؟
* أدى ذلك إلى تجمدها وعدم انتشار السكان بها لشدة برودتها
- ٣- وقوع أنهار أوب وينسي ولينا شمال آسيا وتصب في المحيط القطبي الشمالي ؟
* أدى ذلك إلى تجمدهم شتاءً وقلّة أهميتهم
- ٤- الارتفاع الشانق لجبال روكي ؟ * أدى ذلك إلى أنه يغطي قممها الجليد في فصل الشتاء
- ٥- وقوع الإقليم الجبلي فوق قمم الجبال والمنحدرات العليا في العالم ؟
* أصبح يسوده مناخ شديد البرودة وتغطي القمم الجبلية بالجليد طوال العام مثل قمم جبال الهيمالايا في اسيا
- ٦- وقوع إقليم مناخ الاستوائي بالقرب من دائرة الاستواء ؟ * أصبح يتميز بارتفاع الحرارة طوال العام

٧- وقوع إقليم مناخ التندرا في ما وراء الدانرتين القطبيتين ؟

* أصبح يسود في المناطق القطبية المتجمدة في شمال اسيا واوروبا وامريكا الشمالية وبعض جزر المحيط المتجمد الجنوبي وقارة انتاركتيكا بالكامل

٨- وقوع جنوب غرب استراليا في نطاق اقليم مناخ البحر المتوسط ؟

* أصبحت تتميز تلك الجهة بصيف حار وجاف، وشتاء دافئ وممطر

٩- انتماء منطقة شمال اليابان لإقليم مناخ اللورانسى ؟

* أصبحت تتميز بشتاء بارد ، وصيف معتدل ومطر طوال العام خاصة صيفاً

١٠- استقرار الإنسان في البيئات المختلفة أواخر عصر البلايستوسين ؟

* بدأ يؤثر فيها ويتأثر بها ، فظهرت اختلافات في الصفات الوراثية بين البشر من حيث لون البشرة وطول القامة وحجم الرأس وشكل العين والأنف ونشأت السلالات البشرية

١١- زيادة السكان في معظم دول آسيا ؟

* ترتب بعض المشكلات مثل نقص الغذاء وقلة نصيب الفرد من الدخل القومي

* انخفاض مستوى المعيشة * وجود هجرات غير شرعية إلى الدول المتقدمة مثل دول أوروبا

١٢- وقوع الأطراف الشمالية لكل من اسيا وأوروبا وامريكا الشمالية في نطاق الدائرة القطبية الشمالية ؟

* نتج عن ذلك شدة البرودة في تلك الجهات وقلة السكان فيها

١٣- ارتفاع فنة صغار السن في بعض الدول ومنها مصر ؟

* تكلف الدولة ميزانية ضخمة من أجل توفير الغذاء والملبس والرعاية الصحية والتعليم وغيرها من الخدمات

١٤- اعتماد معظم دول أفريقيا على الزراعة ؟ * أصبحت دول ذات مستوى اقتصادي منخفض

١٥- اعتماد الدول المتقدمة على النشاط الصناعي ؟

* أصبحت دول ذات دخل اقتصادي مرتفع

- ١- تقع جبال طوروس في ... (تركيا - العراق - إيران - لبنان)
- ٢- أعلى جبال في العالم هي .. (الحاجز الكبير - الألب - الهيمالايا - الأنديز)
- ٣- تعرف هضبة ... بسقف العالم (الدكن - التبت - البرازيل - لبرادور)
- ٤- هضبة تقع في غرب آسيا .. (التبت - الدكن - شبه الجزيرة العربية - جيانا)
- ٥- يصب نهري دجلة والفرات في .. (الخليج العربي - خليج عمان - المحيط الهندي - المحيط الهادي)
- ٦- يسود المظهر ... قارة أفريقيا (الجبلي - السهلي - الهضبي - التلالي)
- ٧- من جبال شرق أفريقيا ... (أطلس - كردستان - كلمنجارو - روكي)
- ٨- تحتوي هضاب ... على الصحراء الشرقية والغربية في مصر (الصحراء الكبرى - جنوب أفريقيا - الحبشة - البحيرات الاستوائية)
- ٩- تتبع من هضبتي الحبشة والبحيرات الاستوائية روافد نهر (الكونغو - النيل - الفولجا - دجلة)
- ١٠- يمتد بحر الرمال العظيم في مصر و .. (ليبيا - السودان - فلسطين - السعودية)
- ١١- تعرف جبال الألب بجبال البرانس في .. (شبه جزيرة البلقان - إسبانيا - فرنسا - ألمانيا)
- ١٢- تشغل هضبة ... معظم دولة إسبانيا (لبرادور - بتاجونيا - التبت - الميزيتا)
- ١٣- من الأنهار التي تقطع هضبة فرنسا الوسطى (الفولجا - السين - الدانوب - سانت لورانس)
- ١٤- من المدن الرئيسية التي توجد في السهل الأوروبي العظيم (لندن - نيويورك - موسكو - برلين)
- ١٥- يصب نهر الدانوب في .. (البحر الأسود - البحر المتوسط - المحيط الأطلنطي - الخليج العربي)
- ١٦- يصب نهر الراين في .. (البحر الكاريبي - بحر الشمال - بحر قزوين - البحر الكاريبي)
- ١٧- بحر قزوين هو مصب نهر .. (المسيبي - باراجواي - السين - الفولجا)
- ١٨- تقع جبال ... في شرق أمريكا الشمالية (روكي - الأبلش - الإنديز - الحاجز الكبير)

١٩- تقع هضبة في شمال شرق امريكا الشمالية (لبرادور - المكسيك - جيانا - البرازيل)

٢٠- يصب نهر المسيسيبي في .. (المحيط الأطلنطي - خليج المكسيك - خليج هدسن - خليج سانت لورانس)

٢١- اصغر هضاب أمريكا الجنوبية (جيانا - الدكن - البرازيل - بتاجونيا)

٢٢- توجد في ... اوسع سهول فيضية في العالم (أمريكا الجنوبية - آسيا - أوروبا - أفريقيا)

٢٣- تقع جبال الحاجز الكبير في ... استراليا (شمال - غرب - جنوب - شرق)

٢٤- تتركز في داخل استراليا السهول (الفيضية - الصحراوية - الساحلية - الخصبة)

٢٥- تنتمي منطقة حوض الكونغو في وسط افريقيا الي اقليم مناخ (الموسمي - الاستوائي - المداري - الصيني)

٢٦- يسمى اقليم مناخ .. بالمناخ السوداني (اللورانسى - التندرا - الجبلي - المداري)

٢٧- توجد حشائش ... في إقليمي المداري والموسمي (السافانا - التندرا - الاستبس - البراري)

٢٨- من الاقاليم الممطرة طوال العام اقليم مناخ (الجبلي - غرب أوروبا - البحر المتوسط - المداري)

٢٩- تعرف حشائش الاستبس بحشائش البراري في .. (افريقيا - اسيا - أمريكا الشمالية - استراليا)

٣٠- ينمو شجر الصفاف والبلوط في غابات الاقليم .. (الاستوائي - الموسمي - المداري - الصيني)

٣١- يوجد حيوان الرنة في إقليم مناخ (الجبلي - التندرا - غرب أوروبا - الاستوائي)

٣٢- يوجد حيوان ... في إقليم مناخ المعتدل البارد اللورانسى (الرنة - الثعابين - الدب القطبي - الشمبانزي)

٣٣- الصفة المتشابهة لكل من اقليم اللورانسى والصيني وغرب أوروبا والاستوائي

(درجة الحرارة - سقوط الأمطار طوال العام - تشابه الحيوانات - تشابه الغابات)

٣٤- يسود اقليم مناخ التندرا قارة ... بالكامل (افريقيا - استراليا - أمريكا الجنوبية - انتاركتيكا)

٣٥- اقاليم تقع في نطاق شرق القارات هي

(الصيني والبحر المتوسط - الصيني واللورانسى - الجبلي وغرب أوروبا - المداري والموسمي)

٣٦- اقاليم تقع في غرب القارات هي

(الجبلي والتندرا - الصيني والجبلي - غرب أوروبا والبحر المتوسط - الموسمي والمداري)

٣٧- أكبر دولة في العالم من حيث السكان .. (الصين - الهند - البرازيل - الولايات المتحدة)

٣٨- من مناطق تركيز السكان سهول نهر ... في الهند (بانجتسى - السند - أوب - الجانج)

٣٩- يعيش السكان في بعض المرتفعات مثل المناطق المدارية بأفريقيا بدولة (السنغال - كينيا - توجو - النيجر)

٤٠- يقل عدد سكان بعض مناطق الأنهار مثل نهر .. (بانجتسى - الاورانج - النيل - الأزون)

٤١- يتركز جزء كبير من سكان استراليا في جهة .. (الغرب - الجنوب الشرقي - الشمال - الشمال الغربي)

٤٢ - أكثر منطقة يتركز فيها الازدحام السكاني بالعالم هي جزيرة (نيوزيلندا - اليابان - جاوة - انجلترا)

٤٣ - أكبر قارة في العالم في معدل الوفيات (أفريقيا - أوروبا - أمريكا الشمالية - آسيا)

٤٤ - مصر دولة ذات رعاية طبية .. (فانقة - مرتفعة - منخفضة - متوسطة)

٤٥ - فنة سنوية تكلف الدولة ميزانية ضخمة (صغار السن - البالغون - كبار السن - العمال)

٤٦ - أقل قارة في نصيب الفرد من الدخل القومي (آسيا - أفريقيا - أستراليا - أوروبا)

٤٧ - مصر والمغرب دول ذات مستوى اقتصادي (مرتفع - فوق المتوسط - منخفض - أقل من المتوسط)

٤٨ - الدول ذات الدخل المرتفع تعتمد على النشاط .. (الزراعي - الصناعي - الرعوي - الصيد)

٤٩ - قارة معدل الزيادة الطبيعية فيها صفر (أوروبا - أمريكا الشمالية - آسيا - أمريكا الجنوبية)

السؤال الثامن : ضع علامة ✓ أو ✗ أمام كل عبارة مع التصويب

- ١- تقع جزر إندونيسيا في نطاق اقليم مناخ الاستوائي (✓)
- ٢- تعتبر حشائش الاستبس حديقة حيوان طبيعية (✗) السافانا
- ٣- توجد حشائش السافانا في الاقليم المداري والصيني (✗) المداري والموسمي
- ٤- تسقط الأمطار طوال العام في إقليم مناخ غرب أوروبا (✓)
- ٥- الأطراف الشمالية من قارات آسيا وأوروبا وأمريكا الشمالية تنتمي لإقليم الجبلي (✗) التندرا
- ٦- تتنوع الحياة النباتية في إقليم مناخ الجبلي (✓)
- ٧- يسود اقليم مناخ الجبلي في غرب قارتي أمريكا الشمالية والجنوبية (✓)
- ٨- البشرة الصفراء تميز السلالة الزنجية (✗) المغولية
- ٩- تعد قارتي أفريقيا وأستراليا من مناطق تركيز السلالة الزنجية (✓)
- ١٠- ينتمي الإسكيمو للسلالة القوقازية (✗) المغولية
- ١١- أكبر السلالات في العالم هي الزنجية (✗) القوقازية
- ١٢- ينتمي العرب للسلالة الزنجية (✗) القوقازية
- ١٣- السلالات البشرية أصلها واحد (✓)
- ١٤- يتم تقسيم السلالات البشرية بناءً على أسس جوهريّة (✗) أسس ظاهرية
- ١٥- لا توجد دولة في العالم تتكون من سلالة واحدة (✓)
- ١٦- يتركز السكان في غرب ووسط أوروبا أكثر من الشرق (✓)

١٧- من الهضاب التي يقل فيها السكان بأمريكا الجنوبية هضبة بتاجونيا (✓)

١٨- تعتمد الدول المتقدمة على النشاط الزراعي (✗) الصناعي

١٩- تعتبر دول الخليج العربي من الدول ذات الدخل الاقتصادي المرتفع (✓)

* ترتفع الكثافة السكانية بالسهولة الفيضية لوفرة المياه وخصوبة التربة وقيام النشاط الزراعي

٦- التضاريس ، وتوزيع السكان في استراليا ؟

* يتركز السكان في استراليا في السواحل الشرقية حيث المدن الكبرى مثل سيدني وفي سهول نهري مري ودارلنج حيث الأراضي الزراعية، بينما يقل السكان في الداخل والغرب بسبب الظروف الصحراوية ، ويقفوا في الشمال حيث الغابات الموسمية

٧- مشكلات زيادة السكان في آسيا ، و دول أوروبا ؟

* أدى زيادة السكان في معظم دول آسيا إلى ظهور عدة مشكلات منها الهجرة غير الشرعية إلى الدول المتقدمة خاصة دول أوروبا

٨- امتداد الهضاب والجبال في قارة أفريقيا ، والسهول الساحلية بها ؟

* تضيق السهول الساحلية في افريقيا لاقترب حافات الهضاب والجبال من السواحل

٩- العادات والتقاليد ، ونسبة تعليم الإناث ؟

* هناك عادات وتقاليد في بعض دول العالم تؤثر في معدل تعليم الإناث، حيث يوجد بعض المناطق تحرم المرأة من التعليم لبعض الأفكار الخاطئة ، وتفضل الزواج المبكر للإناث

١٠- عدد الأطباء ، والرعاية الطبية في العالم ؟

* يعتبر عدد الأطباء مؤشراً مهماً على الرعاية الطبية ، فكلما زاد عدد الأطباء في دولة ما يدل ذلك على ارتفاع الرعاية الطبية بها

١١- حرفة الزراعة البدائية والرعي ،، ومعدلات المواليد في افريقيا ؟

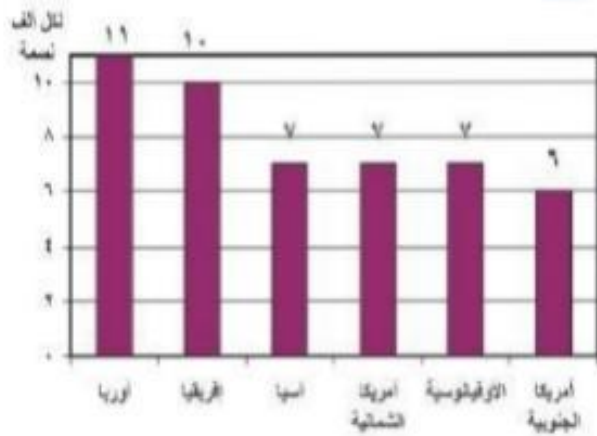
* من أسباب ارتفاع معدلات المواليد في افريقيا بشكل كبير هو اعتماد السكان على حرف تقليدية مثل الزراعة البدائية والرعي

١٢- التقدم الصحي في قارة أوروبا ،، وتصدرها معدل الوفيات في العالم ؟

* أدى التقدم الصحي بقارة أوروبا لزيادة عدد فئة كبار السن ، والذي يعتبر السبب في ارتفاع معدل الوفيات فيها

١٣- مستوى الدخل الاقتصادي في الدول ، ونوع النشاط الرئيسي فيها ؟

* الدول ذات الدخل الاقتصادي المرتفع تعتمد على النشاط الصناعي بينما الدول ذات الدخل الاقتصادي المنخفض يسودها النشاط الزراعي



الفقرة الأولى أمامك تمثيل بياني لمعدل الوفيات في العالم، أجب عما يلي

١- بم تفسر/ تعتبر أوروبا أعلى قارات العالم في معدل الوفيات ؟

* يرجع ذلك إلى زيادة عدد كبار السن فيها

٢- ما نتائج تقدم الرعاية الصحية والاهتمام بصحة الأطفال بمصر ؟

* انخفاض معدل الوفيات في مصر

٣- ما العلاقة بين مستوى السكن والتغذية والخدمات الصحية ومعدل الوفيات ؟

* الدول التي تحرص على مستويات الوقاية الصحية وحماية البيئة من التلوث تقل بها معدلات الوفيات، بينما

تزداد في الدول التي تقل فيها الرعاية الصحية وتنتشر بها الأمراض

الفقرة الثانية أمامك صورة لهضبة التبت، إحدى هضاب قارة آسيا، أجب من خلالها عن الآتي



١- بم تفسر/ تعرف هضبة التبت بسقف العالم ؟ * لارتفاعها عن قمم الجبال

٢- دلال // تتميز منطقة وسط آسيا بتضاريس شائقة الارتفاع ؟

* حيث توجد بها أعلى جبال في العالم "جبال الهيمالايا" ، وأعلى قمة جبلية في العالم "قمة إفرست" ، وأعلى هضاب العالم "هضبة التبت"

٣- ما إسم الاقليم المناخي الذي يسود منطقة وسط آسيا حيث جبال الهيمالايا وهضبة التبت ؟ * اقليم المناخ الجبلي

الفقرة الثالثة أمامك صورة ملقطة من قارة أنتاركتيكا ، في ضوء ذلك أجب عن الآتي

١- ما النتيجة المترتبة على/ شدة البرودة في قارة أنتاركتيكا ؟

* أصبحت غير مأهولة بالسكان باستثناء مراكز بحوث للدول الكبرى مثل روسيا والولايات المتحدة وفرنسا وانجلترا

٢- أكمل/ يحيط بقارة أنتاركتيكا من جميع الجهات المحيط



* المحيط القطبي الجنوبي

٣- بم تفسر/ مرور جميع خطوط الطول في قارة أنتاركتيكا ؟

* لأنها تقع أقصى جنوب الكرة الأرضية، حيث القطب الجنوبي يقع بالقرب من مركزها، و تلتقي عنده كل خطوط الطول

٤- ما هو الاقليم المناخي الوحيد الذي يسود قارة أنتاركتيكا بالكامل ؟ * اقليم مناخ التندرا

الفقرة الرابعة أمامك صورة للسلالات البشرية في العالم، أجب من خلالها عن ما يأتي

١- ما السلالة الأكثر انتشاراً في العالم وتشمل نصف عدد سكان العالم ؟

* السلالة القوقازية

٢- رغم انصهار السلالات واختلاطها إلا أنه يوجد بعض

المجموعات تعرف بالسلالة النقية، حددها مع ذكر أماكن وجودها ؟



"قوقازي"

"مغربية"

"زنجي"

(أ) بعض الزنوج قصار القامة في حوض نهر الكونغو وصحراء كلهاري بأفريقيا

(ب) الإسكيمو في صحاري التندرا شمال كندا

(د) الاستراليون الأصليون في استراليا

٣- أذكر لأي سلالة تنتمي الأقسام الآتية (جماعة التنجوس - البانتو - العرب)

(&) جماعة التنجوس "السلالة المغولية" (&) البانتو "السلالة الزنجية" (&) العرب "السلالة القوقازية"

الفقرة الخامسة أمامك صورة تجمع الزعيم أحمد عرابي والخديو توفيق، من خلالها أجب عن الآتي

(الماهوجني والمطاط - جوز الهند - الزان - الصفصاف والبلوط - الصنوبر والشربين - الزيتون - الدب القطبي - حيوان الرنة والطحالب - الزواحف والحيوانات المتسلقة)

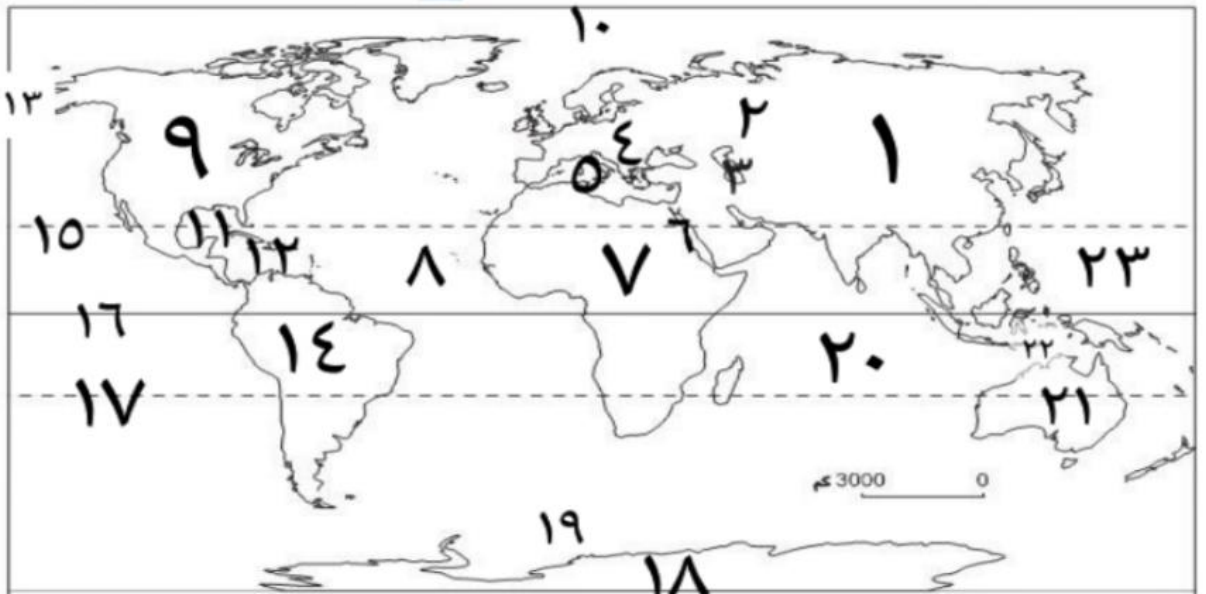
- ١- الماهوجني والمطاط ← إقليم مناخ الاستوائي
 ٢- جوز الهند ← إقليم مناخ الموسمي
 ٣- الزان ← إقليم مناخ غرب أوروبا
 ٤- الصفصاف والبلوط ← إقليم مناخ الصيني
 ٥- الصنوبر والشربين ← إقليم مناخ اللورانسى
 ٦- الزيتون ← إقليم مناخ البحر المتوسط
 ٧- الدب القطبي ← إقليم مناخ اللورانسى
 ٨- حيوان الرنة والطحالب ← إقليم مناخ التندرا
 ٩- الزواحف والحيوانات المتسلقة ← إقليم مناخ الاستوائي

السؤال الرابع عشر : أذكر مصبات الأنهار الآتية

- ١- يانجتسي (بحر الصين) ٢- السند (المحيط الهندي)
 ٣- أوب وينسي ولينا (المحيط القطبي الشمالي)
 ٤- دجلة والفرات (الخليج العربي) ٥- النيل (البحر المتوسط)
 ٦- النيجر (خليج غينيا)
 ٧- الكونغو (المحيط الأطلنطي) ٨- الأورانج (المحيط الأطلنطي)
 ٩- ليمبوبو (المحيط الهندي)
 ١٠- زمبيزي (المحيط الهندي) ١١- الفولجا (بحر قزوين)
 ١٢- الدانوب (البحر الأسود)
 ١٣- الراين (بحر الشمال) ١٤- نلسن (خليج هدسن)
 ١٥- المسيسيبي (خليج المكسيك)
 ١٦- سانت لورانس (خليج سانت لورانس)
 ١٧- الأمزون ولابلاتا وبارانا وباراجواي والأورينكو (المحيط الأطلنطي)

السؤال الخامس عشر : الخريطة

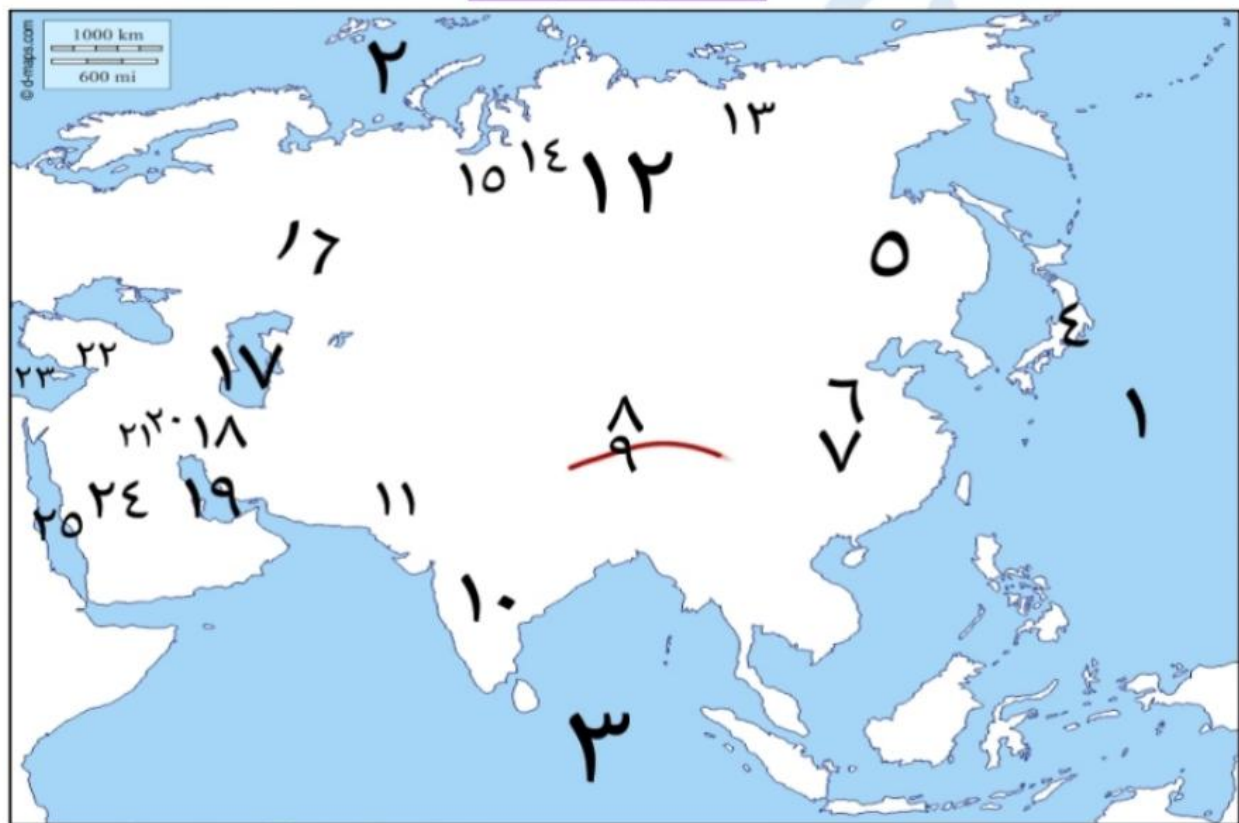
خريطة درس : قارات العالم (الموقع والمساحة)



- | | | | |
|-------------------------|---------------------------|---------------------------|--------------------|
| ١- قارة آسيا | ٢- جبال الأورال | ٣- بحر قزوين | ٤- قارة أوروبا |
| ٥- البحر المتوسط | ٦- البحر الأحمر | ٧- قارة أفريقيا | ٨- المحيط الأطلنطي |
| ٩- قارة أمريكا الشمالية | ١٠- المحيط القطبي الشمالي | ١١- خليج المكسيك | ١٢- البحر الكاريبي |
| ١٣- مضيق بيرنج | ١٤- قارة أمريكا الجنوبية | ١٥- مدار السرطان | ١٦- دائرة الاستواء |
| ١٧- مدار الجدي | ١٨- قارة أنتاركتيكا | ١٩- المحيط القطبي الجنوبي | ٢٠- المحيط الهندي |
| ٢١- قارة أستراليا | ٢٢- بحر أرافورا | ٢٣- المحيط الهادي | |

خرائط درس : تضاريس العالم

١- تضاريس قارة آسيا



- | | | |
|------------------|--------------------------|--------------------|
| ١- المحيط الهادي | ٢- المحيط القطبي الشمالي | ٣- المحيط الهندي |
| ٤- جبال اليابان | ٥- سهول منشوريا | ٦- سهول شرق الصين |
| ٧- نهر اليانغتسي | ٨- هضبة التبت | ٩- جبال الهيمالايا |

مذكرة الأوائل

١٠- هضبة الدكن

١٣- نهر لينا

١٦- جبال الأورال

١٩- الخليج العربي

٢٢- جبال طوروس

٢٥- البحر الأحمر

١١- نهر السند

١٤- نهر ينسي

١٧- بحر قزوين

٢٠- نهر دجلة

٢٣- البحر المتوسط

١٢- سهول سيبيريا

١٥- نهر أوب

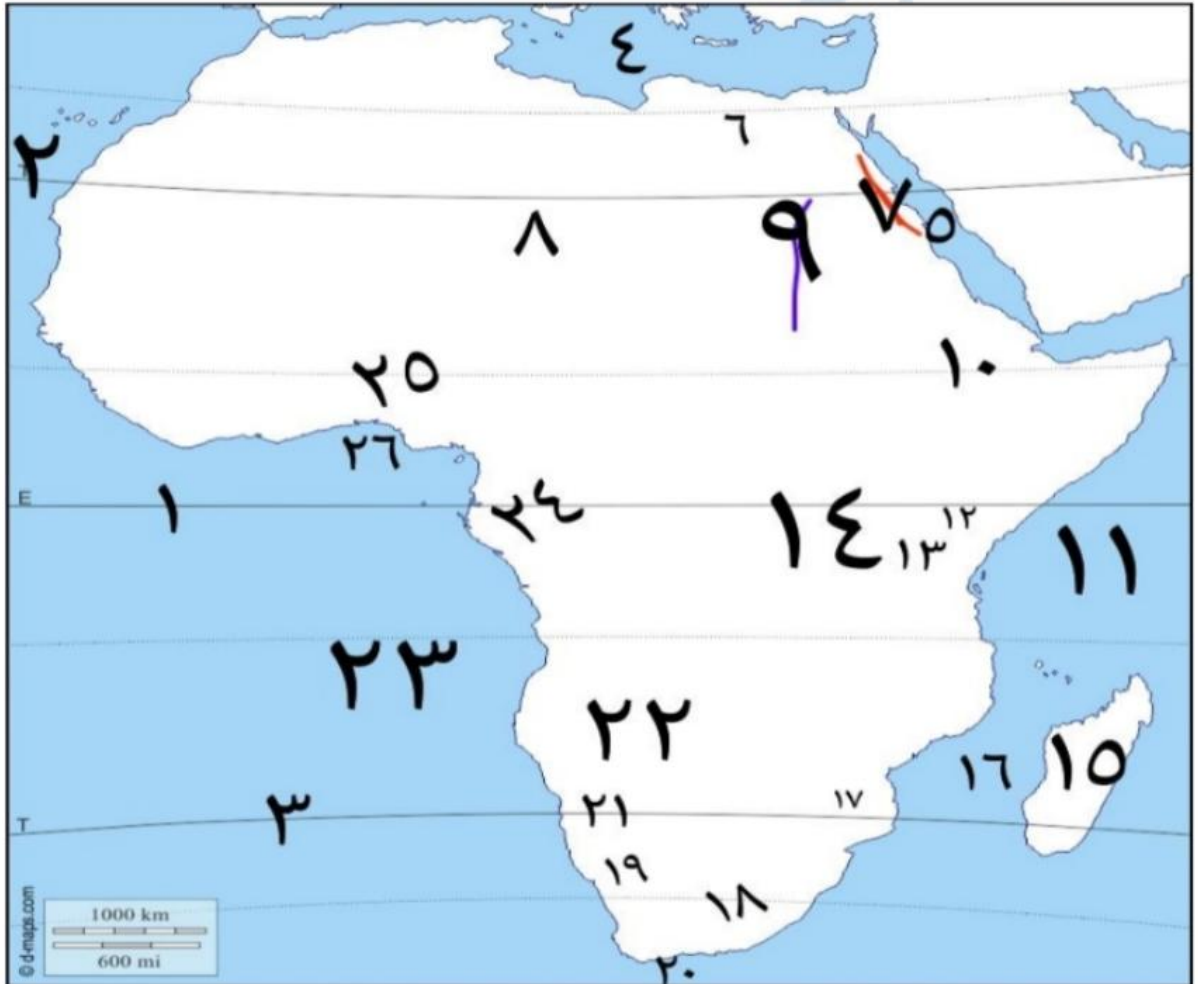
١٨- جبال زاغروس

٢١- نهر الفرات

٢٤- هضبة شبه الجزيرة العربية

٣ إعدادي - ترم اول

٢- تضاريس قارة أفريقيا



١- دائرة الاستواء

٢- مدار السرطان

٣- مدار الجدي

٤- البحر المتوسط

أ/ غادة النوبي

٦- سهل صحراوي "بحر الرمال العظيم"

١٠- هضبة الحبشة "أثيوبيا"

٩- نهر النيل

١٢- جبل كينيا

١٣- جبل كلمنجارو

١٥- جزيرة مدغشقر

٢٠- رأس الرجاء الصالح

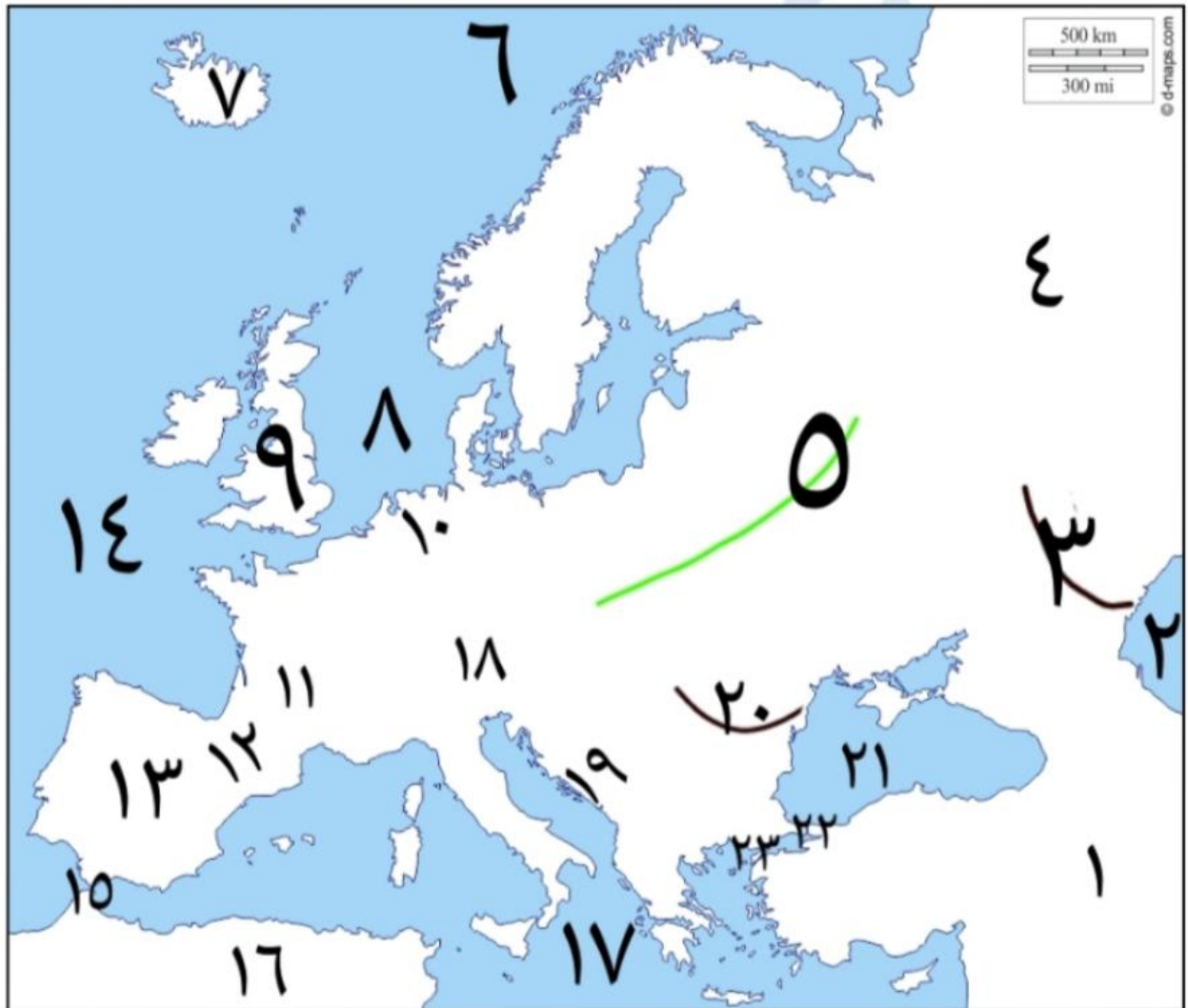
١٩- نهر أورانج

١٨- جبال دراكنزبرج

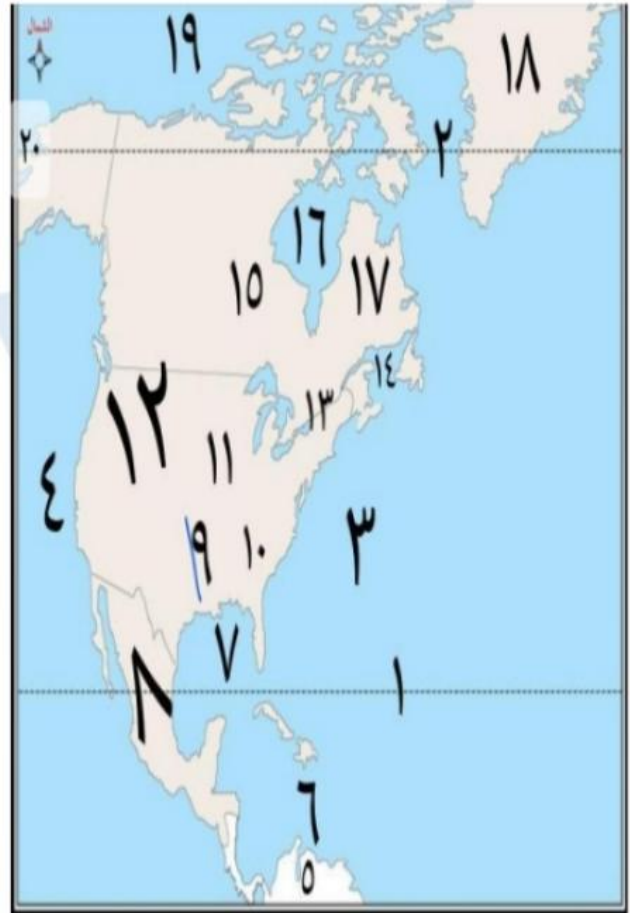
٢٢- هضبة جنوب أفريقيا

٢٦- خليج غينيا

٢٥- نهر النيجر

٣- تضاريس قارة أوروبا

٤- تضاريس قارة أمريكا الشمالية



٥- تضاريس قارة أمريكا الجنوبية



٦- تضاريس قارة أستراليا



٣- المحيط الهندي

٢- المحيط الهندي

١- المحيط الهادي

٨- صحراء فيكتوريا الكبرى

٧- بحر أرافورا

٦- خليج كارينتاريا

١- الخليج الأسترالي الكبير

١١- جبال الحاجز الكبير

١٠- الصحراء الرملية الكبرى

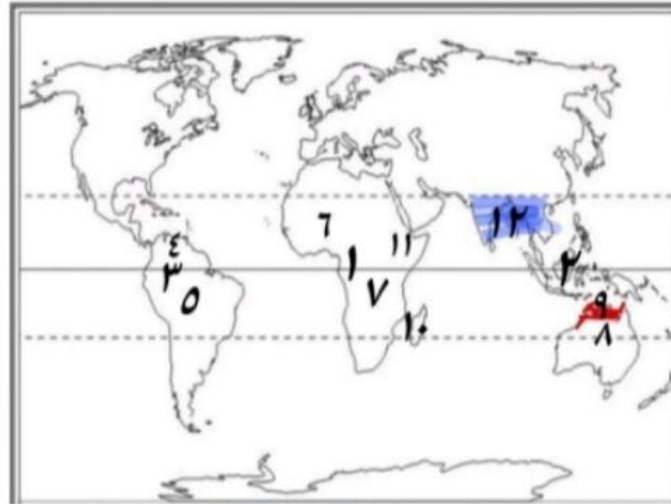
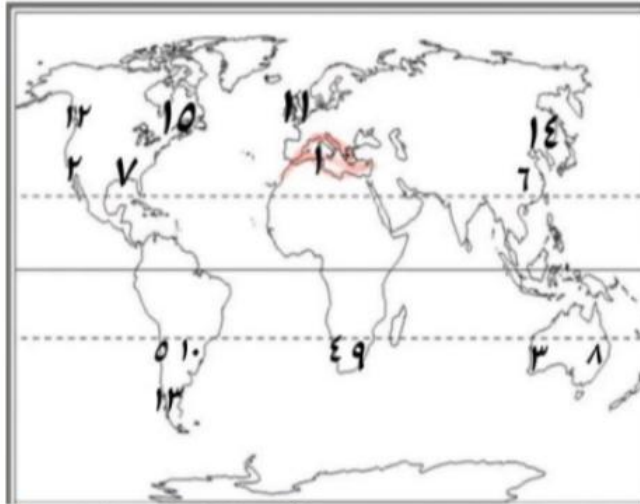
١- الهضبة الغربية

١٤- نهر مري

١٣- نهر دارلنج

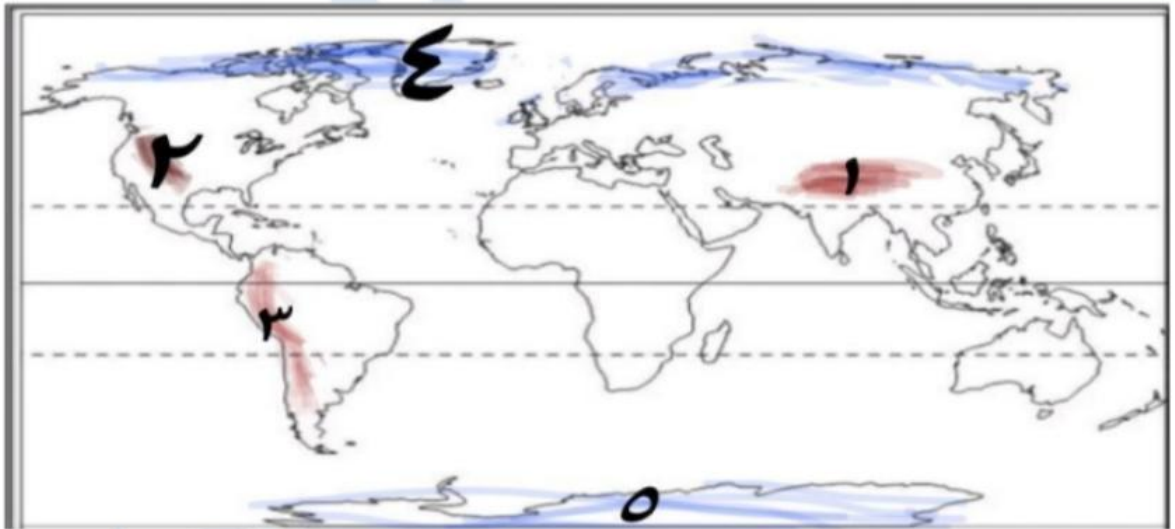
١- جبال الحاجز الكبير

رابط درس : المناخ والنبات الطبيعي في العالم

خريطة الأقاليم الحارةخريطة الأقاليم المعتدلة

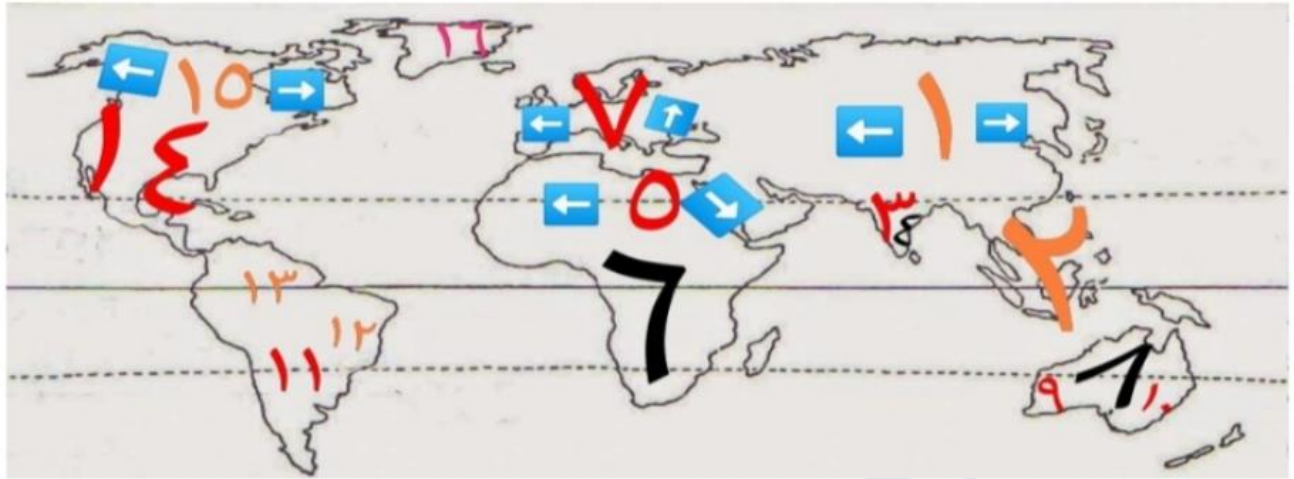
- ١، ٢، ٣، ٤، ٥ ← إقليم مناخ البحر المتوسط
 ٦، ٧، ٨، ٩، ١٠ ← إقليم مناخ الصيني
 ١١، ١٢، ١٣ ← إقليم مناخ غرب أوروبا
 ١٤، ١٥ ← إقليم مناخ المعتدل البارد اللورانسي

- ١، ٢، ٣ ← إقليم مناخ الاستوائي وشبه الاستوائي
 ٤، ٥، ٦، ٧، ٨ ← إقليم مناخ المداري
 ٩، ١٠، ١١، ١٢ ← إقليم مناخ الموسمي

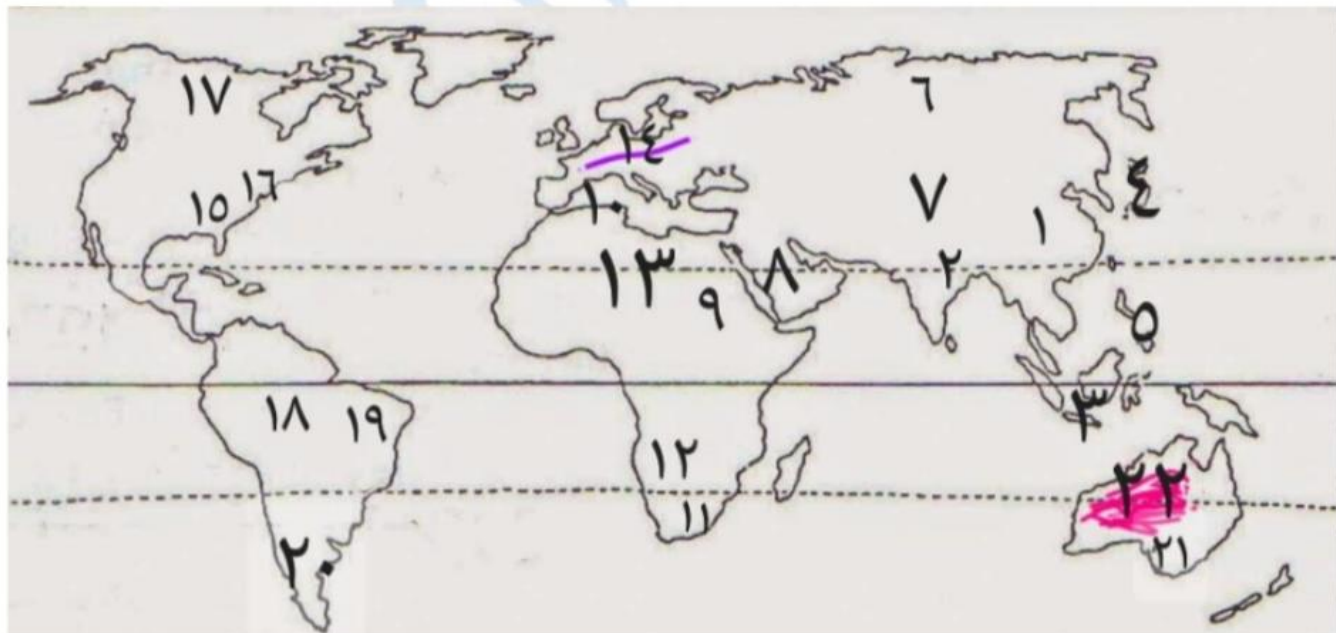
خريطة الأقاليم الباردة

- ٤، ٥ ← إقليم مناخ التندرا

- ١، ٢، ٣ ← إقليم مناخ الجبلي

خريطة درس : السلالات البشرية في العالم

- | | | | |
|----------------------|-----------------------|-----------------------|----------------------|
| ١- السلالة المغولية | ٢- السلالة المغولية | ٣- السلالة القوقازية | ٤- السلالة الزنجية |
| ٥- السلالة القوقازية | ٦- السلالة الزنجية | ٧- السلالة القوقازية | ٨- السلالة الزنجية |
| ٩- السلالة القوقازية | ١٠- السلالة القوقازية | ١١- السلالة القوقازية | ١٢- السلالة المغولية |
| ١٣- السلالة المغولية | ١٤- السلالة القوقازية | ١٥- السلالة المغولية | ١٦- مناطق غير مأهولة |

خريطة درس : توزيع السكان في العالم

- ١- منطقة تركيز سكاني (سهول نهر يانجتسي)
- ٢- منطقة تركيز سكاني (سهول نهر الجانج)
- ٣- أكثر منطقة إزدحاماً بالعالم (جزيرة جاوة)
- ٤- منطقة تركيز سكاني (جزر اليابان)
- ٥- منطقة تركيز سكاني (جزر الفلبين)
- ٦- منطقة قليلة السكان (سهول سيبيريا)
- ٧- مناطق قليلة السكان (ج.الهمالايا وهضبة التبت)
- ٨- منطقة صحراوية (شبه الجزيرة العربية)
- ٩- منطقة تركيز سكاني (سهول وادي النيل)
- ١٠- منطقة تركيز سكاني (سواحل البحر المتوسط)
- ١١- منطقة تركيز سكاني (سواحل جنوب أفريقيا)
- ١٢- منطقة قليلة السكان (صحراء كاهاري)
- ١٣- منطقة قليلة السكان (الصحراء الكبرى)
- ١٤- منطقة تركيز سكاني (السهل الأوروبي العظيم)
- ١٥- منطقة تركيز سكاني (سهول المسيسيبي)
- ١٦- مدينة اقتصادية كبرى (نيويورك)
- ١٧- شمال أمريكا الشمالية (منطقة قليلة السكان)
- ١٨- منطقة قليلة السكان (سهول نهر الأمزون)
- ١٩- أكبر دولة سكانية بأمريكا الجنوبية (البرازيل)
- ٢٠- منطقة قليلة السكان (هضبة بتاجونيا)
- ٢١- منطقة تركيز سكاني (سهول نهري مري ودارلنج)
- ٢٢- مناطق صحراوية (داخل وغرب أستراليا)